



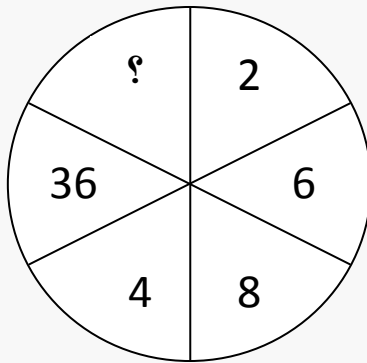
التاريخ: / /

الاسم: \_\_\_\_\_

### أغاز للصف الثالث

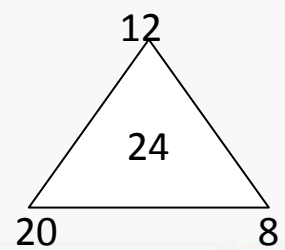
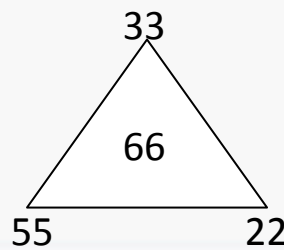
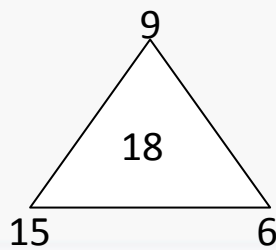
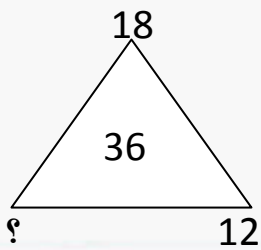
املا المربعات الفارغة بالأعداد من 1 وحتى 9 بدون تكرار بحيث تصبح جميع العمليات الحسابية صحيحة :

	+		+		= 20
x		-		x	
	x		+		= 17
-		x		÷	
	x		÷		= 2
=		=		=	
4		4		21	

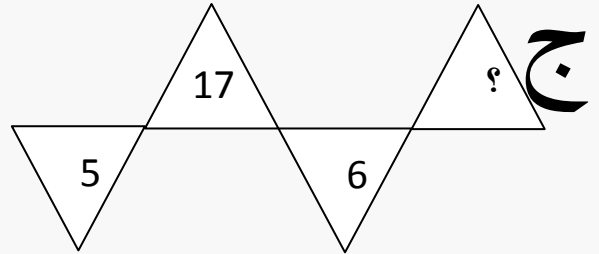
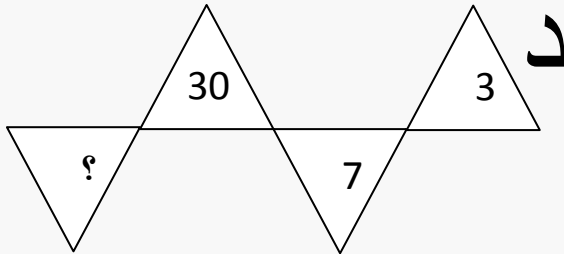
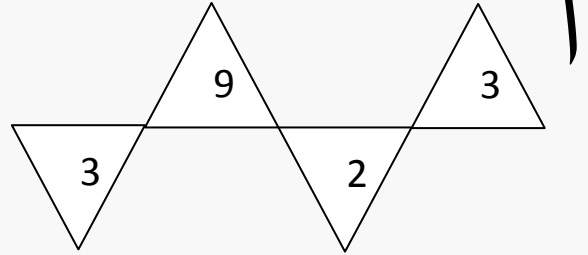
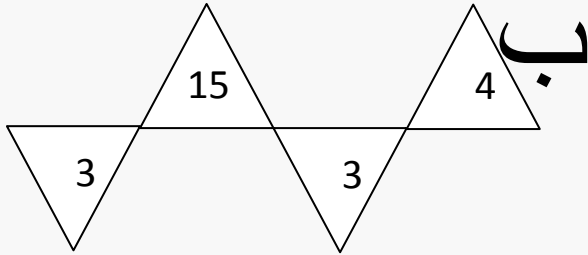


أكمل الرقم الناقص في الشكل التالي :

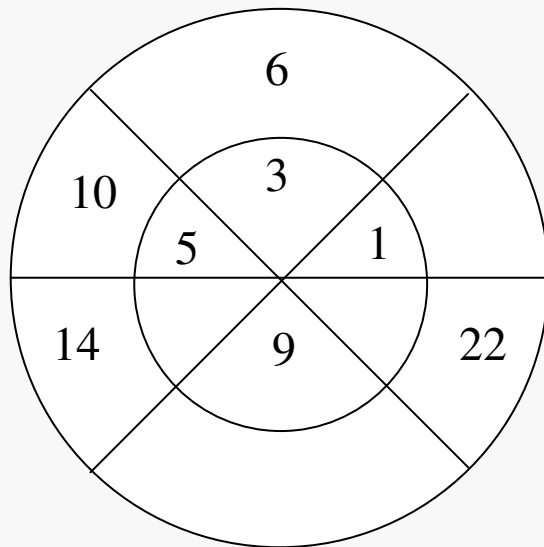
تأمل العلاقة بين الأعداد في رؤوس المثلثات التالية والأعداد التي في داخل كل مثلث لتجد العدد الناقص في المثلث الأخير :



تأمل العلاقة بين الأرقام في الشكلين أ ، ب ثم استنتج الرقم الناقص في الشكلين ج ، د :



اكتشف النمط في الشكل المقابل ثم أكمل :



عملا موفقا

معلمتكم صفاء زعبي